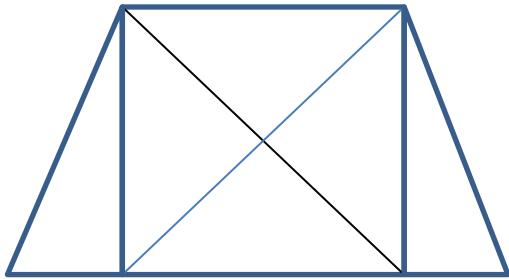



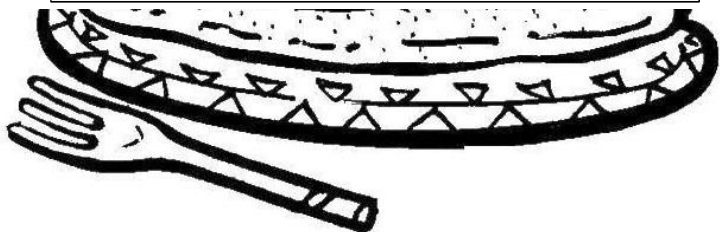
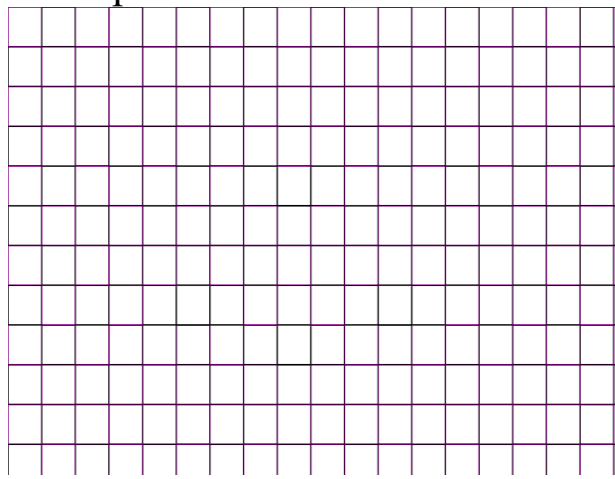
Сосчитай, сколько треугольников в фигуре.



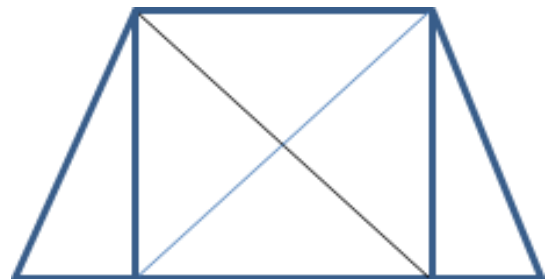
- $65 : 8 =$ (ост.)
- $44 : 7 =$ (ост.)
- $22 : 8 =$ (ост.)
- $1 : 7 =$ (ост.)
- $34 : 8 =$ (ост.)
- $23 : 7 =$ (ост.)
- $57 : 8 =$ (ост.)
- $22 : 7 =$ (ост.)

Реши задачу.

За 8 пирожков заплатили 32 рубля. Сколько стоят 5 таких же пирожков?



Сосчитай, сколько треугольников в фигуре.



- $65 : 8 =$ (ост.)
- $44 : 7 =$ (ост.)
- $22 : 8 =$ (ост.)
- $1 : 7 =$ (ост.)
- $34 : 8 =$ (ост.)
- $23 : 7 =$ (ост.)
- $57 : 8 =$ (ост.)
- $22 : 7 =$ (ост.)

Реши задачу.

За 8 пирожков заплатили 32 рубля. Сколько стоят 5 таких же пирожков?

